



AAA-009-001408 Seat No. _____

B. R. S. (Sem. IV) (CBCS) Examination

March / April - 2016

401 : Economics

(Core - 09) (New Course)

Faculty Code : 009

Subject Code : 001408

Time : $2\frac{1}{2}$ Hours]

[Total Marks : 70

૧ યોગ્ય વિકલ્પ પસંદ કરી ઉત્તર લખો : ૨૦

(૧) પેઢીની સરેરાશ આવક અને કિંમત હંમેશા સરખા હોય છે.

- (A) સત્ય (B) અસત્ય
(C) અર્ધસત્ય (D) અનિર્ણિત

(૨) પેઢીનો સૌથી મહત્વનો ઉદ્દેશ કયો છે ?

- (A) મહત્તમ નફો (B) મહત્તમ આવક
(C) મહત્તમ ઉત્પાદન (D) એકપણ નહિ.

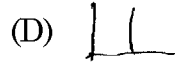
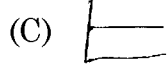
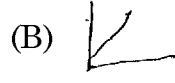
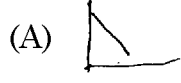
(૩) પૂર્ણ હરીફાઈમાં પેઢીની -

- (A) સ.આવક અને સીમાંત આવક સરખા હોય છે.
(B) સરેરાશ > સી.આ. હોય છે.
(C) સ.આ. < સી.આ. હોય છે.
(D) એકપણ નહિ.

(૪) પેઢીની સ.આ. - રેખા અને માંગ રેખા એકજ હોય છે.

- (A) સત્ય (B) અસત્ય
(C) અર્ધસત્ય (D) વિવાદાસ્પદ

(૫) ઈજારામાં પેઢીની સરેરાશ આવક રેખા કેવી હોય છે ?



(૬) પૂર્ણ હરિફાઈવાળા બજારમાં પેઢી કિંમત પર કાબૂ ધરાવે છે ?

(A) સત્ય

(B) અસત્ય

(C) અર્ધસત્ય

(D) અનિર્ણિત

(૭) પેઢીની સમતુલાની શરત કઈ છે ?

(A) સ.આ. = સ.ખર્ચ

(B) સી.આ. = સી. ખર્ચ

(C) સી.આ. = કિંમત

(D) સી. ખર્ચ = કિંમત

(૮) પેઢીની સરેરાશ આવક એટલે.

(A) વધારાના એકમની આવક

(B) એકમદીઠ આવક

(C) કુલ આવક

(D) એક પણ નહિ

(૯) પેઢીનું સ.ખર્ચ વધતું હોય ત્યારે સીમાંત ખર્ચ _____ હોય છે .

(A) ઘટતું

(B) વધતું

(C) સ્થિર

(D) શૂન્ય

(૧૦) કઈ રેખાનો ઢાળ વધુ તીવ્ર હોય છે ?

(A) સ.ખર્ચ

(B) સીમાન્ત ખર્ચ

(C) સરેરાશ આવક

(D) એક પણ નહિ

(૧૧) પેઢીની સમતુલા વખતે ન્યૂનતમ ખોટની સ્થિતિ કઈ છે ?

(A) સ. આવક < સ.ખર્ચ

(B) સ. આ. = સ. ખર્ચ

(C) સ.આ. > સ. ખર્ચ

(D) અન્ય

(૧૨) ઈજારાયુક્ત હરિફાઈવાળા બજારમાં પેઢી કઈ બાબત પર પ્રભુત્વ ધરાવે છે ?

(A) કિંમત અને ઉત્પાદન

(B) ફક્ત કિંમત

(C) ફક્ત ઉત્પાદન

(D) બજાર

- (૧૩) વસ્તુના પુરવઠા કરતા માંગ વધુ હોય તો કિંમત
- (A) વધે (B) ઘટે
- (C) યથાવત રહે (D) ખૂબ ઘટે
- (૧૪) વસ્તુ વૈવિધ્ય કયા બજારનું લક્ષણ છે ?
- (A) ઈજારાયુક્ત હરીફાઈ (B) ઈજારો
- (C) પૂર્ણહરીફાઈ (D) બધાજ.
- (૧૫) કઈ બજાર પરિસ્થિતિમાં ગ્રાહકનું શોષણ વધુ થાય છે ?
- (A) ઈજારો (B) પૂર્ણ હરીફાઈ
- (C) ઈજારાયુક્ત હરીફાઈ (D) અન્ય
- (૧૬) જાહેરાતનું પ્રભુત્વ કયા બજારમાં જોવા મળે છે ?
- (A) પૂર્ણ હરીફાઈ (B) ઈજારાયુક્ત હરીફાઈ
- (C) ઈજારો (D) બધા જ
- (૧૭) પૂર્ણ હરીફાઈમાં ટૂંકાગાળામાં પેઢીની ખર્ચ રેખાઓ કેવી હોય છે ?
- (A) સમાંતર (B) યુ આકારની
- (C) એલ આકારની (D) પાયાની ધરીને લંબ
- (૧૮) લાંબા ગાળે પૂર્ણ હરીફાઈમાં દરેક પેઢી મેળવે છે.
- (A) અસામાન્ય નફો (B) સામાન્ય નફો
- (C) ન્યૂનતમ ખોટ (D) બધાજ
- (૧૯) પેઢી અને ઉદ્યોગ બન્ને એક જ કયા બજારમાં હોય છે ?
- (A) પૂર્ણ હરીફાઈ (B) ઈજારો
- (C) ઈજારાયુક્ત હરીફાઈ (D) દ્વિ ઈજારો
- (૨૦) સ્થિર ખર્ચ અને અસ્થિર ખર્ચનો ભેદ ફક્ત છે.
- (A) લાંબાગાળાનો (B) ટૂંકાગાળાનો
- (C) મધ્યમ ગાળાનો (D) અન્ય

૨ બજારની વિવિધ પરિસ્થિતિમાં પેઢીની સરેરાશ આવક અને સીમાંત આવકના વલણો ઉદાહરણ અને આકૃતિની મદદથી સમજાવો. ૧૦

૩ નીચેનામાંથી કોઈપણ એક પ્રશ્નનો ઉત્તર લખો. ૧૦
(A) પૂર્ણ હરીફાઈવાળા બજારમાં લાંબાગાળામાં પેઢીની સમતુલા સમજાવો.
(B) પૂર્ણ હરીફાઈવાળા બજારના લક્ષણો જણાવો.

૪ ઈજારામાં પેઢી લાંબાગાળે પણ અસામાન્ય નફો મેળવે છે - સમજાવો. ૧૦

અથવા

પેઢીના વિવિધ હેતુઓ વિસ્તારથી લખો.

૫ ટૂંકનોંધ લખો. (કોઈ પણ બે) ૧૦
(A) ઈજારાયુક્ત હરીફાઈના લક્ષણો.
(B) ઈજારાના ગેરલાભો.
(C) ઈજારામાં ટૂંકાગાળામાં પેઢીની સમતુલા

૬ ઈજારાના લક્ષણો સવિસ્તર લખો. ૧૦